

ÉVALUATION DIAGNOSTIQUE
DES ÉLÈVES ALLOPHONES

Mathématiques

CYCLE 3

Langue d'origine : ukrainien

Прізвище:

Ім'я:

Matériel nécessaire : crayon, gomme, rapporteur, règle graduée, équerre, compas, crayons vert + rouge.

EXERCICE 1

Обчисли:

$$\begin{array}{r} 297 \\ \times 35 \\ \hline \end{array}$$

MI

MF

MS

TBM

EXERCICE 2

Напиши та обчисли:

$$408 \div 3$$

MI

MF

MS

TBM

EXERCICE 3

Напиши та обчисли:

$$164,8 + 26,57$$

MI

MF

MS

TBM

EXERCICE 7

Заповни.



12 €



..... €



..... €

18 €

.....

MI MF MS TBM

EXERCICE 8

Подивись на приклад:

Приклад:



$\frac{7}{10}$ смуги заштриховано сірим.

а) Доповни фразу, використовуючи дріб, як у прикладі:



..... смуги заштриховано сірим.

б) Заштрихуй $\frac{3}{4}$ смуги.



MI MF MS TBM

EXERCICE 9

Розмісти числа від найменшого до найбільшого:

3,2 3,01 3,235 3,026

.....

MI MF MS TBM

EXERCICE 10

Заштрихуй $\frac{1}{3}$ смуги.

--	--	--	--	--	--

MI MF MS TBM

EXERCICE 11

Напиши та обчисли:

49,7 x 3,6

MI MF MS TBM

EXERCICE 12

Обведи правильну відповідь:

- $\frac{1}{4} =$
- 1,4
 - 4
 - 0,25

MI MF MS TBM

EXERCICE 13

Вимагається укласти 20 яєць до коробок по 6 штук.

а) Скільки коробок будуть заповнені повністю?

.....

б) Скільки залишиться неукладених яєць?

.....

MI MF MS TBM

EXERCICE 14

Доповни рівності:

1,5 кг = г

30 хв. = год.

5 хв. = сек.

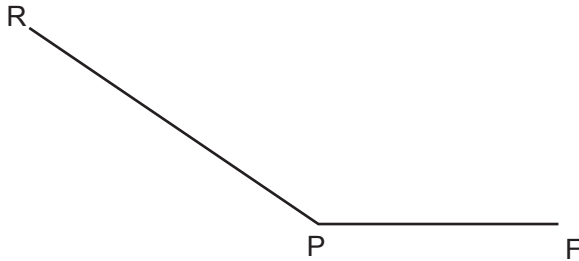
380 сл = л

2,3 км = м

MI MF MS TBM

EXERCICE 15

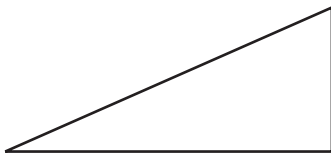
Виміряти цей кут:



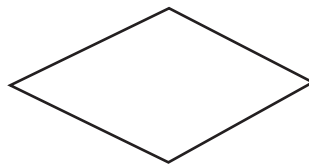
MI MF MS TBM

EXERCICE 16

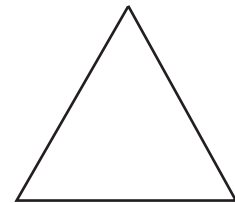
Обведи назву кожної фігури.



- рівнобедрений трикутник
- прямокутний трикутник
- ромб
- рівносторонній трикутник



- трикутник
- прямокутник
- куб
- ромб

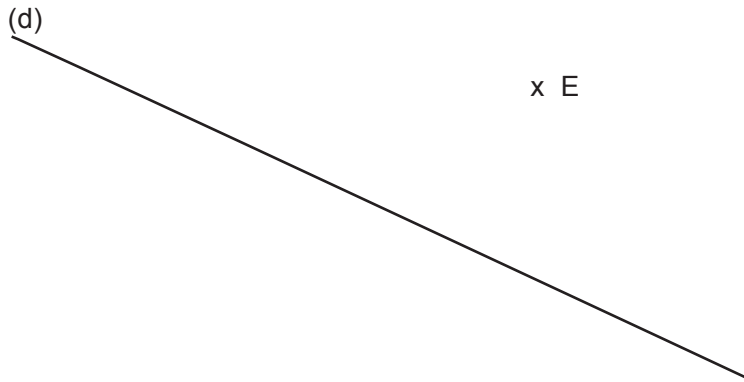


- рівносторонній трикутник
- паралелограм
- прямокутний трикутник
- ромб

MI MF MS TBM

EXERCICE 17

Проведи зеленим перпендикуляр до прямої (d) через точку E;
потім проведи червоним паралель до прямої (d) через точку E.

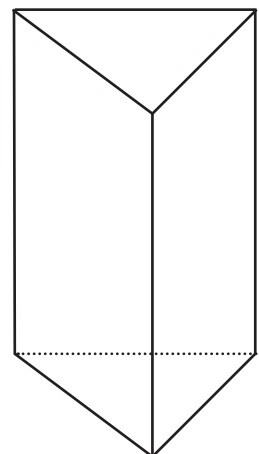


MI MF MS TBM

EXERCICE 18

Розглянь фігуру та доповни речення:

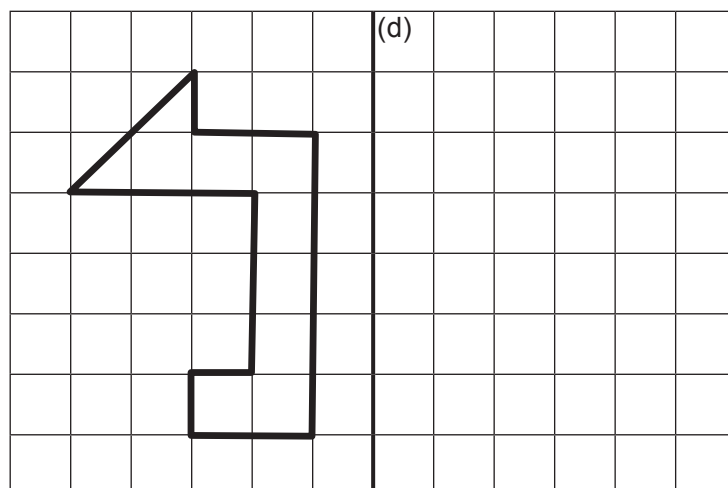
Це тіло має граней, ребер та вершин.



MI MF MS TBM

EXERCICE 19

Накресли симетричну фігуру відносно прямої (d).



MI

MF

MS

TBM

EXERCICE 20

Накресли нижче трикутник EFG, в якому

$EF = 8$ см, $FG = 6$ см і $GE = 5$ см.

MI

MF

MS

TBM